



OFFICE DE TOURISME LAROQUE DES ALBERES



Randonnée mystère



Randonnée mystère

Randonnée facile

Dénivelé : environ 150 m

Durée : 1h30 de marche sans les arrêts / 3h30-4h00 au total

Conseils divers et utiles : Prévoyez de l'eau, des vêtements adéquats (chapeau ou casquette, crème solaire, chaussures adaptées ou encore lunettes de soleil)

Evitez bien entendu de trop vous éloigner des chemins balisés.

Sur le parcours vous rencontrerez une montée un peu raide.

Principe de la randonnée mystère : Vous partez sur une randonnée dont vous ne connaissez pas le parcours. Répondez aux questions et jeux pour en découvrir les différentes étapes. Le plan et la carte, en fin de livret, vous aideront à vous repérer .

Information diverses : Durant le parcours des tables de pique-nique seront à votre disposition pour goûter ou déjeuner.

Le balisage et les nombreux panneaux de signalisation vous permettront également, à différents moments, de vous orienter.

Etape 1 :

(Les enfants peuvent remplir leur livret pages)

En barrant les mots de la grille qui répondent aux phrases ci-dessous, vous verrez apparaître, en suivant l'ordre normal de lecture, la 1 ère étape de votre parcours.

1 Barrez les couleurs du drapeau catalan

2 Barrez les noms des animaux que l'on peut observer dans les Pyrénées-Orientales

3 Barrez les mots qui ont un rapport avec la randonnée

4 Barrez les noms des stations balnéaires

5 Barrez les noms des villages où se trouve un château ou une forteresse

6 Barrez les noms des spécialités Catalanes

7 Barrez les noms des stations de ski

8 Barrez les noms de fruits cultivés dans les Pyrénées-Orientales

9 Barrez les noms des sommets situés dans les Pyrénées-Orientales

10 Barrez les villes situées dans le pays frontalier des Pyrénées-Orientales

	1	2	3	4	5	6	7
A	CERF	LA	COLLIOURE	HUPPE FACIEE	CANIGOU	MARMOTTE	BALISAGE
B	GR	PECHE	PYRENEES 2 000	BUNYETES	ARGELES -SUR- MER	CANET-EN- ROUSSILLON	LES ANGLES
C	MADRID	NEULOS	CHEVREUIL	AMANDE	TOUR	VILLEFRANCHE DE CONFLENT	PR
D	SANGLIER	BOLES DE PICOLAT	ABRICOT	JAUNE	ROUGE	BARCELONE	CERISE
E	FONT ROMEU	SALSES	LE BARCARES	SENTIER	ISARD	ROUSQUILLE	BANYULS -SUR-MER

Une fois l'étape numéro 1 atteinte, répondez aux questions suivantes tout en admirant le paysage :

(Les enfants ont également une épreuve ici)

Par qui les tables ont-elles été dressées ?

Quelle est l'altitude du Pic du Canigou ?

Quel animal est représenté sur la table ?

Quel col se situe a 938 m d'altitude ?

Comment s'appelle la rivière de Laroque ?

Quelle chapelle se trouve en-dessous du Pic Naud ?

Sur quel pic se trouvent les antennes radio ?

Quelle est l'altitude du pic des 4 Termes ?

Quel col se situe entre les rocs du Midi et Vaca Vella ?

Quelle fontaine se trouve en-dessous du Pic St-Christophe ?

Etape 2 :

(Pensez au livret enfants)


Remplissez ce texte à trous grâce aux définitions du bas de la page.

En _ _ _ de la tour, vous devrez parcourir les ruelles qui vous permettront de rejoindre la place de la _ _ _ _ _ , remarquez le _ _ _ _ _ bicentenaire qui s'y trouve, puis partez en direction de l' _ _ _ _ _ et continuez tout droit sur cette route. Vous croiserez les _ _ _ _ _ .

Rejoignez la _ _ _ _ _ et partez à _ _ _ _ _ sur une centaine de mètres afin de pouvoir accéder à un _ _ _ _ _ , étape numéro 2 de votre parcours.

- 1) Niveau inférieur
- 2) Souveraineté appartenant au peuple.
- 3) Grand arbre à larges feuilles dont l'écorce lisse se détache par plaques
- 4) Bâtiment religieux
- 5) Femmes qui lavaient autrefois le linge
- 6) Cours d'eau de faible ou moyenne importance qui se jette dans un autre cours d'eau
- 7) Bâbord sur un navire
- 8) Élément souple généralement suspendu permettant de passer d'un point à un autre

Parmi ces quatre photos, laquelle représente l'étape numéro 2 :



Etape 3 :

(Pensez au livret enfants)

Continuez votre chemin selon les indications suivantes :

Dans le paragraphe ci-dessous, rayez les lettres en position paire, réécrivez la phrase correspondant aux lettres restantes et rendez-vous à l'endroit qui vous est indiqué.

Eant stoernttainotn dvuo puosnfta diet seisnegrer seuuirvpeo-
zu lret crhoeumvienr elne rbeosntcahnetm tionuejtonuerpsa
às dvroouistpee ertd rreemiolnvtoeuzs jfuasuqduràa lrae
rfoautree pcaerttteeza scutri lvai gtaeuecnhrea jyuasnqtuua-
nui pqaunenmeeanut ilnedsilqeutatnrte lsap saoiurrecsec
moinnseerravleez rleejsoliegnterze cseilmpea ciir eens
spuoiuvrarnetf laei braelviostargeep jharuansee

Quel est le nom catalan de ce lieu ?

Que signifie ce terme ?



Etape 4 :

(Pensez au livret enfants)

Continuez à suivre le chemin balisé au-dessus des tables de pique-nique et rejoignez le cours d'eau. Remontez le cours du canal d'irrigation.

Dès que vous entendez l'objet de la petite charade ci-après, arrêtez-vous et remontez en direction de la Balma Del Moro :

*Quand ils sont de veau, mes premiers sont une spécialité d'abats
On dit souvent de ma deuxième qu'elle est trop courte
On respire mon troisième
Et mon tout est constitué d'eau.*

Je suis _____

Qu'est ce que la Balma Del Moro ?

- Un pic
- Un dolmen
- Une grotte



En chemin, repérez l'endroit représenté par la photo ci-dessous :

Comment s'appelle ce lieu ?

Etape 5 :

(Pensez au livret enfants)

Au niveau du carrefour suivant, résolvez le sudoku ci-dessous pour trouver la direction qu'il vous faut prendre :

Derrière les couleurs se cachent des chiffres, et chacun d'eux est associé à la lettre lui correspondant dans l'alphabet :

			x					+	

5		2		8		1	3	9
1	9	8	4					6
	7		1		2	4	8	
	8	9	5	1			4	
4				2		8	6	
6	2		3			5	9	7
		3	9	7	4			2
9			2		1		7	8
	5	7			3	9		4

Etape 6 :


La prochaine étape de votre circuit se révélera à l'aide de l'indice fourni par la grille suivante :

Horizontal

- 2) Compétition ayant lieu chaque été à Laroque, durant laquelle des objectifs sont atteints via la résolution d'énigmes
- 4) Point culminant du massif des Albères
- 5) Chemins étroits dans la nature
- 6) Ensemble de marques qui indiquent le chemin à suivre
- 7) Cousin du chamois
- 9) Machine à moudre les grains de céréales
- 12) Massif de montagne des Pyrénées-Orientales
- 13) Espèce d'oiseau appartenant aux Upupidae

Vertical

- 1) Etendues boisées
- 3) Rongeurs grimpeurs à la queue touffue
- 8) Peintre surréaliste espagnol plaçant Perpignan au centre du monde
- 10) Vertébrés ovipares couverts de plumes
- 11) Danse traditionnelle catalane
- 14) Chemin longue distance apprécié des randonneurs



9	12	5

6	10	2	8	3	11

Étape 7 :

(Pensez au livret enfants)

Résolvez les codes ci-dessous pour vous rendre à votre prochaine étape, une traduction de chiffres en lettres laissera apparaître une phrase qui vous guidera vers un point bien précis :

Indice : 1 = A, 2 = B, 3 = C, 3 + 5 = 8, 7 x 3 = 21

1	3 x 7

10+3	1	15+4

2	3 x 5	6 x 3	4	5	13+6

3	19-4	8+6	12+8	9	7+7	3 x 7	5	20+6

20-1	42/2	18

12	5

3	8	5	11+2	9	16-2

6	1	3	5

1

14+8	30/2	25-4	15+4

15+1	5+10	19+2	15+3

20-2	5	9+1	9+6	9	12+2	4	20-2	5

10+2	5

2	1	18+1	17+2	9	11+3

Etape 8 :

(Pensez à continuer de travailler sur le livret enfant)

Pour vous rendre au prochain point de contrôle il vous faudra donner un sens à cette phrase en séparant correctement les mots les uns des autres. Vous obtiendrez ainsi la direction à suivre :

Une fois le bassin atteint, reprenez votre route vers le village. Votre aventure n'est pas encore totalement terminée. Maintenant, il vous faut prendre le sentier qui longe ce point d'eau par la droite. Descendez ensuite sur la gauche jusqu'à la Font des Ocells et le Moulin de la Pave. Arrêtez-vous à un niveau de ces deux endroits pour répondre aux questions qui vous sont posées.

De quelle année date cette fontaine ? _____

Cette bâtisse avait pour but de produire ?

Huile

Cidre

Farine



Qu'appelle-t-on le « Rec dels molins » ? _____


En quelle année le bassin fut-il créé ? _____

Citez les différents niveaux de cette bâtisse :

Etape 9 :

(Pensez au guide enfant)

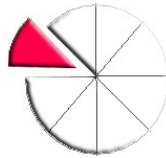
Résolvez le rébus ci après et utilisez le plan pour continuer votre route :



p r ' ,



.





a d ' t ' ,



r



D'R'



2



k ' ,



A quelle époque ce bâtiment a-t-il été construit ?

- A la fin du XIXème siècle
- A la fin du XXème siècle
- Au début du XXIème siècle

Quelles sont les lettres apposées au dessus de la porte d'entrée de cet endroit ? _____

Etape 10 :

Rejoignez le platane bicentenaire afin de répondre à cette question.

Cet arbre a été planté au milieu du XIXe siècle et symbolise :

- La liberté
- Le bien être
- Le monde

Toujours sur le chemin du retour repérez encore le détail ci-dessous :



De quoi s'agit-il ?

Que signifie le texte inscrit en dessous ?

**Reprenez le chemin emprunté à l'aller pour redescendre
vers l'Office de tourisme !**

Notes

Rappel : Le plan et la carte ci-après sont là pour vous aider, n'hésitez pas à vous en servir !



PLAN DU VIEUX VILLAGE

(Accès limité aux véhicules des riverains)



Saint-genis-des-fontaines

Sorède

Chemin des disputes

Passerelle de la Florentine

Passerelle Sabaté

PARCOURS HISTORIQUE



VISITE MOBILE :
Flashez les QRcodes à l'entrée des monuments pour en connaître l'histoire

Moulin de la Pave



OFFICE DE TOURISME
Maison de la randonnée
Rue du docteur Carboneill
66740 Laroque des Albères
Téléphone : 04 68 95 49 97

En cas d'urgence : 18 / 112